

סוג הבחינה: א. בגרות לבתי ספר על-יסודיים
ב. בגרות לנבחנים אקסטרניים
מועד הבחינה: חורף תשע"ה, 2015
מספר השאלון: 316,035806
נספח: דפי נוסחאות ל-5 יחידות לימוד

מתמטיקה

5 יחידות לימוד — שאלון ראשון

הוראות לנבחן

- א. משך הבחינה: שלוש שעות וחצי.
- ב. מבנה השאלון ומפתח ההערכה: בשאלון זה שלושה פרקים.
- | | | | | | | |
|-----------|---|----------------------------|---|---------------|---|------------|
| פרק ראשון | — | אלגברה והסתברות | — | 20×2 | — | 40 נקודות |
| פרק שני | — | גאומטריה וטריגונומטריה | | | | |
| במישור | | | — | 20×1 | — | 20 נקודות |
| פרק שלישי | — | חשבון דיפרנציאלי ואינטגרלי | — | 20×2 | — | 40 נקודות |
| | | | | סה"כ | — | 100 נקודות |
- ג. חומר עזר מותר בשימוש:
- (1) מחשבון לא גרפי. אין להשתמש באפשרויות התכנות במחשבון הניתן לתכנות. שימוש במחשבון גרפי או באפשרויות התכנות במחשבון עלול לגרום לפסילת הבחינה.
 - (2) דפי נוסחאות (מצורפים).
- ד. הוראות מיוחדות:
- (1) אל תעתיק את השאלה; סמן את מספרה בלבד.
 - (2) התחל כל שאלה בעמוד חדש. רשום במחברת את שלבי הפתרון, גם כאשר החישובים מתבצעים בעזרת מחשבון. הסבר את כל פעולותיך, כולל חישובים, בפירוט ובצורה ברורה ומסודרת. חוסר פירוט עלול לגרום לפגיעה בציון או לפסילת הבחינה.
 - (3) לטייטה יש להשתמש במחברת הבחינה או בדפים שקיבלת מהמשגיחים. שימוש בטייטה אחרת עלול לגרום לפסילת הבחינה.

ההנחיות בשאלון זה מנוסחות בלשון זכר ומכוונות לנבחנות ולנבחנים כאחד.

ב ה צ ל ח ה !

המשך מעבר לדף ◀

ה ש א ל ו ת

שים לב! הסבר את כל פעולותיך, כולל חישובים, בפירוט ובצורה ברורה.
חוסר פירוט עלול לגרום לפגיעה בציון או לפסילת הבחינה.

פרק ראשון — אלגברה והסתברות (40 נקודות)

ענה על שתיים מהשאלות 1-3 (לכל שאלה — 20 נקודות).

שים לב! אם תענה על יותר משתי שאלות, ייבדקו רק שתי התשובות הראשונות שבמחברתך.

1. צִבְעִים ותיקים וצִבְעִים מתלמדים צריכים לצבוע מספר מסוים של דלתות.
צִבְע אחד ותיק ו-2 צִבְעִים מתלמדים יסיימו את הצביעה בזמן הארוך ב-25% מהזמן שבו יסיימו את הצביעה 2 צִבְעִים ותיקים וצִבְע אחד מתלמד.
לכל צבע ותיק אותו קצב עבודה בלתי משתנה, ולכל צבע מתלמד אותו קצב עבודה בלתי משתנה. (צבע ותיק עובד מהר יותר מצבע מתלמד).
א. מצא את היחס בין הזמן שצבע מתלמד יסיים לבדו את צביעת הדלתות לבין הזמן שצבע ותיק יסיים לבדו את צביעת הדלתות.
ב. מצא כמה צבעים מתלמדים צריכים לעבוד עם צבע אחד ותיק, כדי שהם יסיימו את צביעת הדלתות במשך אותו הזמן שבו יסיימו את הצביעה 2 צבעים ותיקים וצבע אחד מתלמד.

המשך בעמוד 3

2. סדרה מוגדרת לכל n טבעי על ידי הכלל:

$$a_1 = 4$$

$$a_n + a_{n+1} = 4n + 2$$

א. אם בסדרה יש 100 איברים, מצא את הסכום של שני האיברים העומדים במקומות האמצעיים בסדרה.

ב. הוכח כי איברי הסדרה העומדים במקומות אי־זוגיים מהווים סדרה חשבונית, וגם איברי הסדרה העומדים במקומות זוגיים מהווים סדרה חשבונית.

אם בסדרה יש 101 איברים, מצא:

ג. את האיבר העומד באמצע הסדרה.

ד. את הסכום של כל איברי הסדרה.

3. ביישוב גדול $\frac{1}{3}$ מהתושבים הם נשים, והשאר הם גברים.

מבין התושבים בוחרים באקראי שתי קבוצות:

קבוצה של 4 אנשים (נשים / גברים) לריאיון ברדיו

וקבוצה של 4 אנשים (נשים / גברים) לריאיון בטלוויזיה.

א. מהי ההסתברות שבכל קבוצה יש בדיוק 2 גברים?

ב. ידוע כי בקבוצה שנבחרה לריאיון ברדיו היו לכל היותר 2 גברים.

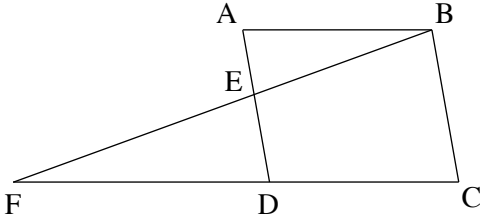
מהי ההסתברות שהיו בקבוצה זו בדיוק 2 גברים?

◀ המשך בעמוד 4

פרק שני — גאומטריה וטריגונומטריה במישור (20 נקודות)

ענה על אחת מהשאלות 4-5.

שים לב! אם תענה על יותר משאלה אחת, תיבדק רק התשובה הראשונה שבמחברתך.



4. במקבילית ABCD הנקודה E נמצאת על

הצלע AD.

המשך BE חותך את המשך CD בנקודה F

(ראה ציור).

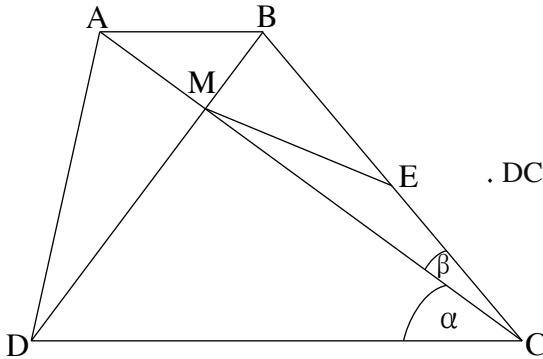
נתון: שטח המשולש ABE הוא 27 סמ"ר.

שטח המשולש DFE הוא 48 סמ"ר.

א. מצא את שטח המשולש BED.

ב. נתון גם כי המרובע BCDE הוא בר חסימה במעגל.

מצא את היחס $\frac{AB}{EF}$.



5. אלכסוני הטרפז ABCD מאונכים זה לזה

ונפגשים בנקודה M.

E היא אמצע השוק BC (ראה ציור).

נתון: $DC = a$, $\sphericalangle ACB = \beta$, $\sphericalangle ACD = \alpha$.

א. הבע באמצעות a , α ו- β

את האורך של ME.

נתון: $\frac{\tan \beta}{\tan \alpha} = \frac{1}{3}$, $a = 6.6$ ס"מ.

ב. מצא את האורך של AB.

נתון גם: $BM = 1.3$ ס"מ.

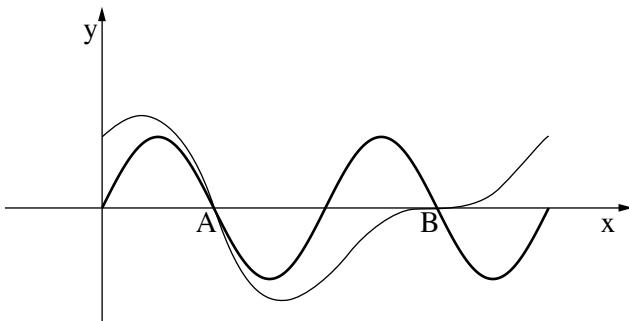
ג. מצא את הזווית DCB.

**פרק שלישי – חשבון דיפרנציאלי ואינטגרלי של פולינומים,
של פונקציות שורש, של פונקציות רציונליות ושל פונקציות טריגונומטריות**

(40 נקודות)

ענה על שתיים מהשאלות 6-8 (לכל שאלה – 20 נקודות).

שים לב! אם תענה על יותר משתי שאלות, ייבדקו רק שתי התשובות הראשונות שבמחברתך.



6. נתונות שתי פונקציות:

$$f(x) = 0.5 \sin(2x) + \cos x$$

$$g(x) = \sin(2x)$$

בתחום $0 \leq x \leq 2\pi$.

בתחום הנתון

הגרפים של הפונקציות

נפגשים בשתי נקודות, A ו-B,

הנמצאות על ציר ה-x, כמתואר בציור.

א. דרך נקודה על ציר ה-x, הנמצאת בין הנקודות A ו-B, מעבירים אנך לציר ה-x.

האנך חותך את הגרפים של הפונקציות f(x) ו-g(x) בנקודות M ו-N.

מצא את האורך המקסימלי של הקטע MN.

ב. דרך נקודה על ציר ה-x, הנמצאת בתחום $0 \leq x \leq \frac{\pi}{2}$, מעבירים אנך לציר ה-x.

האנך חותך את הגרפים של הפונקציות f(x) ו-g(x) בנקודות K ו-L.

מצא את האורך המקסימלי של הקטע KL.

7. נתונות הפונקציות: $f(x) = \sqrt{\frac{x}{1+x^2}}$

$$g(x) = \frac{1}{\sqrt{3x^2 + 2}}$$

א. מצא עבור כל אחת מהפונקציות:

(1) את תחום ההגדרה.

(2) את האסימפטוטות המאונכות לצירים (אם יש כאלה).

(3) את השיעורים של נקודות הקיצון (אם יש כאלה), וקבע את סוגן.

ב. סרטט במערכת צירים אחת סקיצה של גרף הפונקציה $f(x)$

וסקיצה של גרף הפונקציה $g(x)$, אם ידוע כי הפונקציות נחתכות בנקודה אחת בלבד.

ג. נתונה הפונקציה $h(x) = g(x) - k$, $k > 0$.

עבור אילו ערכים של k אין לפונקציה $h(x)$ נקודות חיתוך עם הפונקציה $f(x)$? נמק.

8. נתון כי הפונקציה $f(x)$ ופונקציית הנגזרת שלה $f'(x)$ מקיימות $\int_0^3 \frac{f'(x)}{2 \cdot \sqrt{f(x)}} dx = 3$.

נתון גם: $f(0) = 1$, $f'(x) = kx + 2$. k הוא פרמטר.

א. מצא את הערך המספרי של $f(3)$, ומצא את הפונקציה $f(x)$ (בלי פרמטרים).

ב. הפונקציה $g(x)$ מקיימת $g(x) = \sqrt{f(x)}$.

(1) הראה כי $g(x) = |x + 1|$.

(2) סרטט במערכת צירים אחת סקיצה של גרף הפונקציה $g(x)$

וסקיצה של גרף הפונקציה $f(x)$.

בהצלחה!